

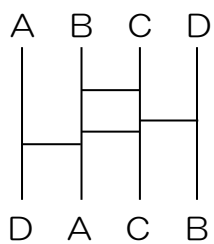
受験算数の基礎

Die Grundlagen
der Arithmetik
für die Aufnahmeprüfung

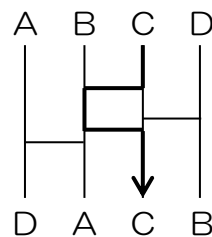
試行力問題～子どもから大人まで～

あみだくじの最少本数・8

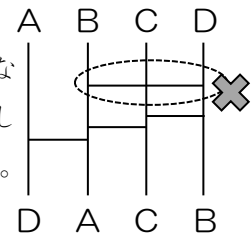
下のあみだくじは横の線が4本引いてあり、同じ記号（AとA、BとB、CとC、DとD）が



たとえばCとCはやじるしのようにおすばれています。



横の線はとなりどうしにしか引けません。



- 図1に横の線をできるだけ少ない本数引いて、同じ記号がおすばれるようにしなさい。
- 図2に横の線をできるだけ少ない本数引いて、同じ記号がおすばれるようにしなさい。
- 図3に横の線を15本引いて、同じ記号がおすばれるようにしなさい。
(※15本は最も少ない本数です)

図1

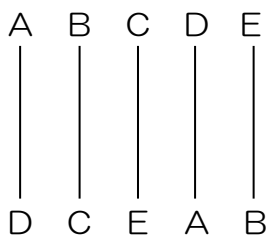


図2

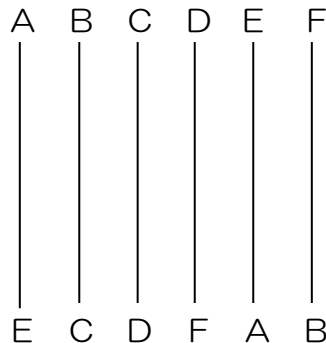
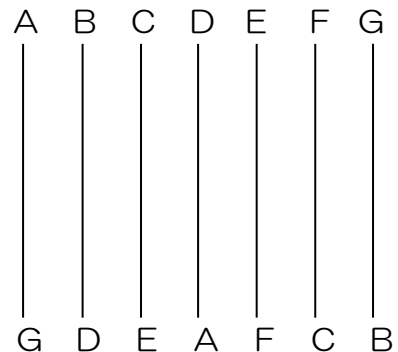
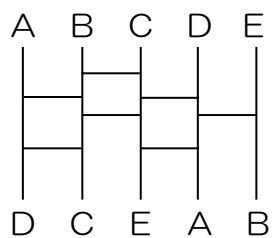


図3

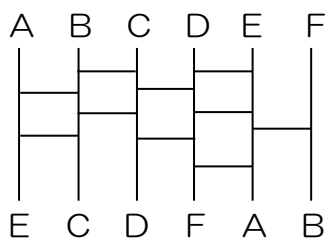


あみだくじの最少本数・8

(1) 最少で7本です。次の引き方が解答例です。



(2) 最少で10本です。次の引き方が解答例です。



(3) 解答例は次のようになります。

