

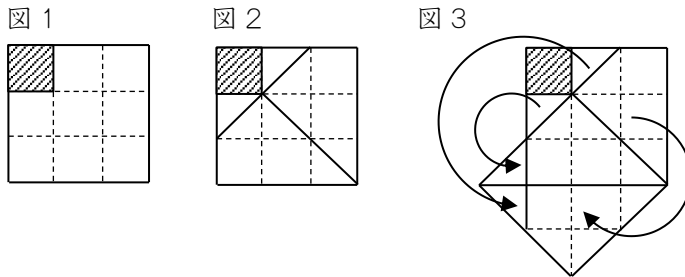
受験算数の基礎

Die Grundlagen
der Arithmetik
für die Aufnahmeprüfung

試行力問題～子どもから大人まで～

せいほうけい く た
正方形の組み立て・1

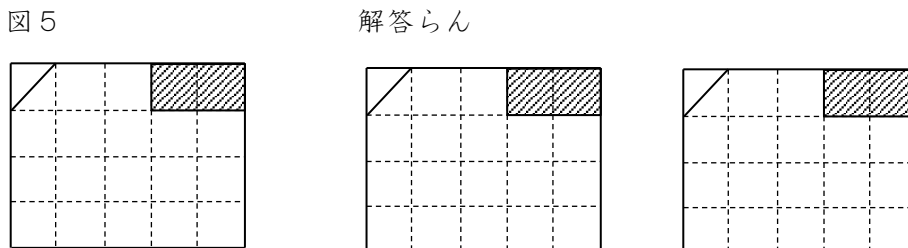
図1のような穴があいたマス目を図2のように4つに切って、図3のように正方形をつく
作るときは、切った紙のおきを変えたり裏返したりしてもかまいません。



(1) 図4のように切りはじめました。つづきの切り方をかきましょう。



(2) 図5のように切りはじめました。つづきの切り方を2つかきましょう。

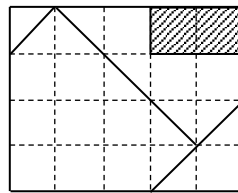
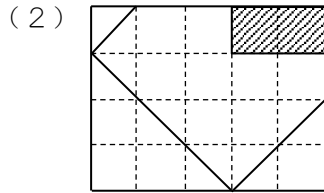
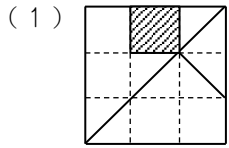


受験算数の基礎

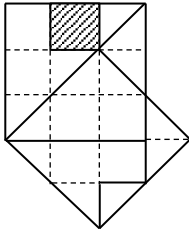
Die Grundlagen
der Arithmetik
für die Aufnahmeprüfung

試行力問題～子どもから大人まで～

正方形の組み立て・1



(1) 次のように組み立てます。



(2) 次のように組み立てます。

