

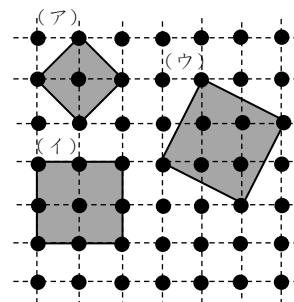

最難関問題

せいほうけい てん すう
正方形と点の数・4


マス目に並ぶ4つの点を結んで、正方形を作ります。(ア)の正方形は5個、

(イ)の正方形は9個、(ウ)の正方形は8個の点を囲んでいます。

(1) 32個の点を囲む正方形を1つかきなさい。



(2) 16個の点を囲む正方形で、大きさのちがうものを、かけるだけをかきなさい。

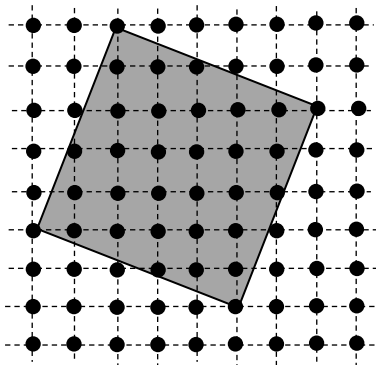


最難関問題

正方形と点の数・4

以下のようになります。向き・位置が異なっても正解です。

(1)



(2)

