

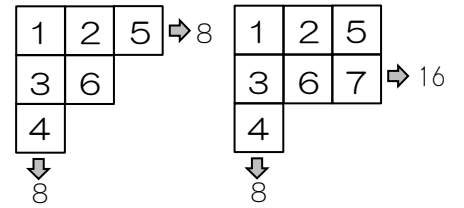
受験算数の基礎

Die Grundlagen
der Arithmetik
für die Aufnahmeprüfung

試行力問題～子どもから大人まで～

たし算の表・3

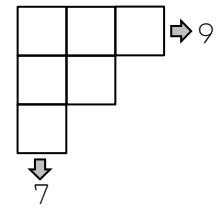
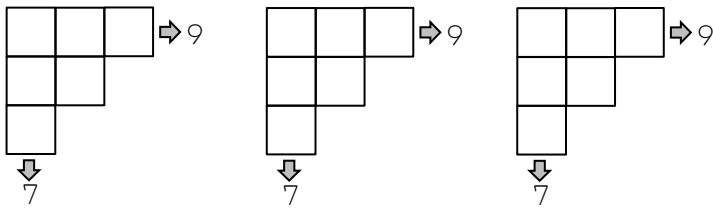
6マスの表には1～6, 7マスの表には1～7のように, マス目の数
だけ1から数字を入れます。また, 右のマスの数字は左のマスの数字
より大きく, 下のマスの数字は上のマスの数字より大きくします。
やじるしの先には, たてや横にならんでいる数字の合計を書きます。



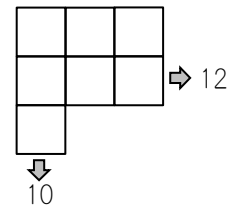
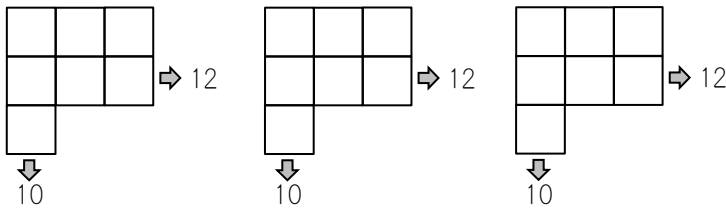
①～③の表のあいたところに数字を入れましょう。

①

かいとう
解答らん

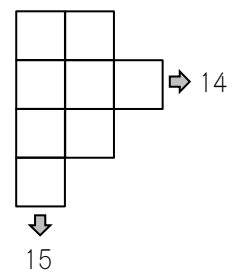
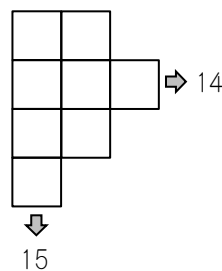
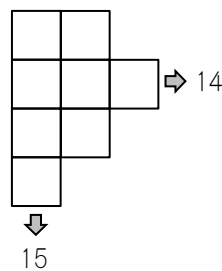
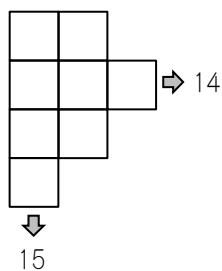
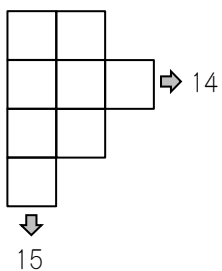


②



③

答えをすべてかきなさい。解答らんはすべてつかうとはかぎりません。



受験算数の基礎

Die Grundlagen
der Arithmetik
für die Aufnahmeprüfung

試行力問題～子どもから大人まで～

たし算の表・3

①

1	3	5	⇒ 9
2	6		
4			
↓			
7			

②

1	3	5	⇒ 12
2	4	6	
7			
↓			
10			

③

1	3			
2	5	7	⇒ 14	
4	6			
8				
↓				
15				

1	3			
2	4	8	⇒ 14	
5	6			
7				
↓				
15				

1	2			
3	5	6	⇒ 14	
4	8			
7				
↓				
15				

1	2			
3	4	7	⇒ 14	
5	8			
6				
↓				
15				